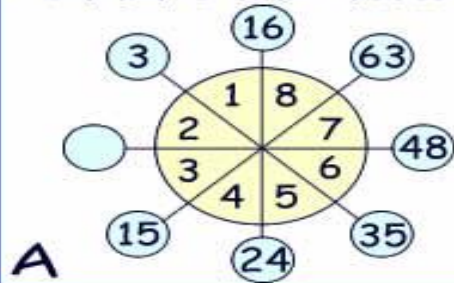
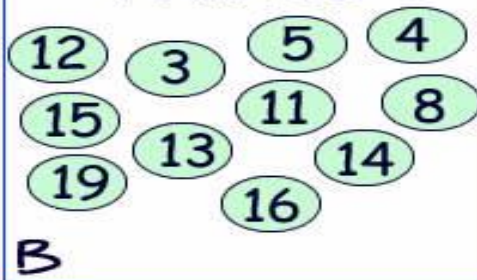


# RETO MATEMÁTICO 7 - Grado 8° - 9°

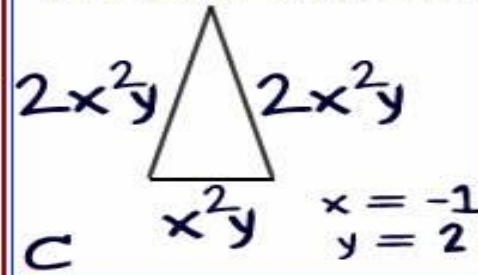
Descubre el número que falta



Descubre el INTRUSO



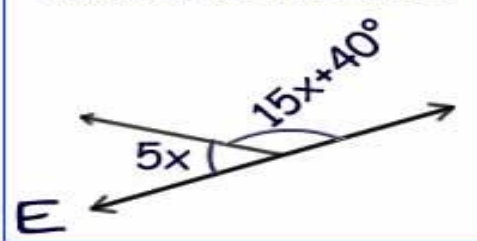
Perímetro del triángulo Isósceles



Descubre el número que falta



¿Cuál es el valor de x en la siguiente figura?

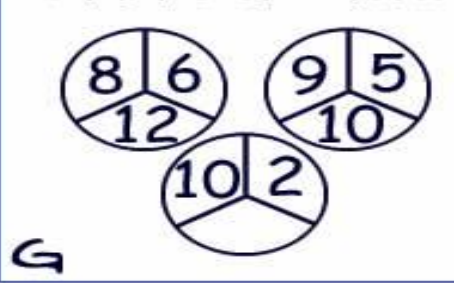


Grado absoluto del Binomio

$$3a^4b - a^2b^2$$

F

Descubre el número que falta



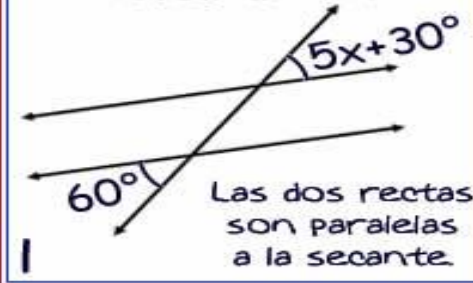
Valor numérico del Polinomio

$$-2a^3b^2 - 4ab^3 + 107$$

$a = 3 ; b = -4$

H

¿Cuál es el valor de x ?



Escribe cada uno de los resultados en la casilla correspondiente de los cuadrados de abajo.



Si la suma de los tres números en cada fila columna y diagonal es igual, la solución de cada reto es correcta.

A	B	C
D	E	F
G	H	I

**CUADRADO MÁGICO**